

1. Колку е часот? Поврзи ги паровите дигитален и аналоген часовник што покажуваат исто време.




Повеќе задачи ќе најдете во Збирката задачи со активности по математика за 3 одделение. Со клик на сликата се овозможува пристап до интернет-страницата за нарачка.




2. Запиши колку е часот на секој часовник. Потоа, пресметај и запиши колку време поминало од времето на првиот до времето на вториот часовник. Првиот пример е решен.








поминато време = 2 h 30 min















поминато време =

поминато време =









поминато време =

3. Колку е часот? Одгатни и заокружи ја буквата кај точниот одговор.

- Часовникот покажува некое време по 2 часот.
- Големата стрелка не покажува на 12.

<p>A)</p> 	<p>Б)</p> 
<p>B)</p> 	<p>Г)</p> 

Повеќе задачи ќе најдете во Збирката задачи со активности по математика за 3 одделение. Со клик на сликата се овозможува пристап до интернет-страницата за нарачка.



4. Борјан и Лина се договориле со другарчињата да одат во зоолошката градина. Во табелата се опишани нивните движења. Нацртај ги стрелките на секој часовник и означи го соодветното време.

1. Борјан тргнал од дома со неговиот татко во 9 часот и 30 минути наутро.		7. Во 20 минути по 11 часот стоеле покрај кафезот на лавот. Тука се задржале 10 минути.	
2. Застанале на semaфopот во 9:45.		8. По лавот, го виделе и тигарот како се одмора. Кај тигарот останале 5 минути.	
3. Во 10:10 застанале на пешачкиот премин за да ги пропуштат пешаците.		9. Уживале во играта на лемуриите и останале 15 минути.	
4. На паркингот пристигнале во 10 часот и 45 минути.		10. Решиле малку да одморат и да се освежат со сладолед.	
5. Борјан бил пред влезот на зоолошката градина во 10:55.		11. По паузата, отишле да ги видат веселите мајмуни. Веќе било 12 часот и 30 минути.	
6. Лина пристигнала пред зоолошката градина во 11 часот.		12. Попладнето, 25 минути по 1 часот, ја напуштиле зоолошката градина.	

Повеќе задачи ќе најдете во Збирката задачи со активности по математика за 3 одделение. Со клик на сликата се овозможува пристап до интернет-страницата за нарачка.

